

## SCHEDA N.7

a. Il Sindaco: nomina e cessazione dalla carica.

b. Durante il turno di servizio si è chiamati ad intervenire in Via IV Novembre ove sono in corso lavori di rifacimento della segnaletica orizzontale. Giunti sul posto, gli addetti dell'azienda municipalizzata incaricati della realizzazione della menzionata segnaletica reclamano la presenza di numerose autovetture lasciate in sosta nonostante la presenza dei segnali mobili di divieto di sosta con rimozione forzata posizionati in largo anticipo e comunque entro il termine delle 48 ore prima contemplato dal codice della strada. Tuttavia, osservando meglio, ci si accorge che sui menzionati segnali erroneamente è stata riportata una data diversa rispetto a quella del giorno effettivo di attività. Il candidato illustri come opererebbe nel caso appena descritto.

c. La figura del responsabile del procedimento.

Handwritten signature and the word "mese" written in cursive.

#### SCHEDA N.4

a. Il diritto di accesso agli atti dell'Amministrazione comunale.

b. Durante l'espletamento del servizio appiedato in zona centro, è richiesto l'intervento della Polizia Locale in Via Milanese in quanto risultano presenti numerosi autocarri (furgoni) lasciati in sosta all'interno della menzionata area pedonale. Si precisa che nelle adiacenti Piazza Giorgini e Viale Buozzi è in corso lo svolgimento di una manifestazione a carattere commerciale (mercato) e che l'evento è stato recepito da una delibera di giunta e successivamente disciplinato dal punto di vista della viabilità da una ordinanza della Polizia Locale. Il candidato illustri come intende in concreto operare.

c. Il silenzio della pubblica amministrazione.



The image shows three handwritten signatures in black ink. The top-left signature is a stylized, circular mark. The top-right signature appears to be 'MBA'. The bottom signature is a long, horizontal, cursive stroke.

SCHEDA N.6

a. Il Consiglio comunale: composizione e attribuzioni.

b. Nello svolgimento del servizio durante il periodo estivo si è chiamati ad intervenire presso il parcheggio adiacente alla rotonda Merlini ove pare che vi siano numerose autovetture lasciate in sosta fuori degli appositi spazi segnalati. Il conducente del mezzo regolarmente parcheggiato all'interno dello stallone di sosta lamenta che proprio a causa di una delle auto lasciate in sosta irregolare egli non riesce ad uscire dal parcheggio ed a riprendere la marcia. Il candidato illustri come intende operare.

c. La partecipazione al procedimento amministrativo.

Handwritten signature and initials. The signature is written in cursive and appears to be 'M. Beale'. Below it are the initials 'AB' written in a stylized, bold cursive font.

## SCHEDA N.2

a. Funzioni e responsabilità dei Dirigenti dell'Ente locale.

b. Durante l'espletamento del servizio appiedato in zona centro, unitamente ad un collega, accertate la presenza di un'autovettura parcheggiata in corrispondenza di un'area di intersezione che rende difficoltosa la manovra di svolta delle autovetture, impedendo addirittura il passaggio degli autocarri. La menzionata autovettura espone sul parabrezza il contrassegno invalidi (CUDE) in corso di validità. Il candidato descriva come intende comportarsi a livello operativo nel caso sopra descritto.

c. Il sistema delle autonomie locali nella Costituzione.

Three handwritten signatures in black ink. The top left signature is a stylized, circular scribble. The top right signature is more legible, appearing to read 'MBel'. The bottom signature is a dense, horizontal scribble.

SCHEDA N.15

a. I principi del bilancio comunale.

b. L'accertamento, la contestazione e la notificazione dell'illecito amministrativo ai sensi della legge 689/81.

c. Le attività di pubblico spettacolo.

Q. Mosel  
Alto

SCHEDA N.10

a. Rapporti tra la Giunta e il Consiglio comunali. Come viene individuato il numero degli Assessori e quello dei consiglieri comunali?

b. Durante il turno di servizio si è chiamati ad intervenire in via Volta ove pare che vi siano, secondo una segnalazione pervenuta, numerose autovetture in sosta in area permanentemente vietata. Giunti sul posto si nota che la segnaletica verticale risulta completamente coperta da una folta vegetazione. L'unica segnaletica presente è la striscia longitudinale continua che evidenzia i margini della carreggiata. Il candidato illustri come intende operare.

c. Le cause di cessazione del rapporto di lavoro dei dipendenti pubblici.



Three handwritten signatures in black ink. The top signature is a stylized monogram. The middle signature is written in a cursive script and appears to read 'M. B. S.'. The bottom signature is a more complex, scribbled cursive signature.

SCHEDA N.16

a. Quali sono i compiti che la legge regionale Marche n.1/2014 assegna alla Regione riguardo alle Polizie locali?

b. La procedura di irrogazione della sanzione amministrativa ai sensi della legge 689/81.

c. La polizia giudiziaria: struttura ed organizzazione.

1 mese  
[Signature]

## SCHEDA N.1

a. Il Segretario comunale: nomina, ruolo e funzioni.

b. Durante il turno di servizio, su segnalazione della Centrale Operativa, si è chiamati ad intervenire in Via Piave n199, per una presunta occupazione abusiva di suolo pubblico. Giunti sul posto, si rileva da un lato la presenza di un autocarro – gru con cestello elevatore in movimento che occupa alcuni stalli di sosta, dall'altro lato la totale assenza di cartelli mobili di divieto con l'indicazione della data dell'intervento edilizio. Il candidato descriva come intenderebbe operare nel caso appena descritto, evidenziando in particolare se valterebbe la possibilità di effettuare una scelta in ordine all'eventuale applicazione dell'art. 20 CdS ovvero dell'art. 21 CdS.

c. Il Presidente della Repubblica nella Carta costituzionale.

Three handwritten signatures in black ink. The top left signature is a stylized, vertical mark. The top right signature is a cursive 'MBA'. The bottom signature is a more complex, horizontal cursive mark.



SCHEDA N.19

- a. Il ruolo del Sindaco in relazione alla Polizia Locale e i suoi rapporti con il Comandante.
- b. Nomina, composizione e compiti della Commissione del Mercato Ittico a norma del vigente Regolamento comunale.
- c. L'identificazione di polizia giudiziaria ai sensi dell'art.349 cpp.

 m. b. selh






SCHEDA N.9

a. Il parere di regolarità sulle proposte di Deliberazione di Giunta e Consiglio.

b. Durante lo svolgimento del turno di servizio, su comunicazione della Centrale Operativa, riceve indicazione di portarsi in Via Pergolesi ove pare che un hotel abbia l'accesso al proprio parcheggio ostruito da un'autovettura in sosta irregolare. Giunto sul posto nota che l'accesso al parcheggio dell'hotel risulta privo di passo carrabile e che la menzionata autovettura è parcheggiata su zona di presegnalamento o isola di traffico. Il candidato illustri come intende in concreto operare nel caso appena descritto.

c. Le fonti di disciplina dell'impiego alle dipendenze di pubbliche amministrazioni.


   


SCHEDA N.17

a. Quali sono le funzioni che la legge regionale Marche n.1/2014 individua in capo agli appartenenti ai servizi e ai corpi di polizia locale?

b. I rifiuti: nozione, classificazione e competenza normativa.

c. L'accertamento della notizia di reato da parte della polizia giudiziaria e attività conseguenti.

 mbeo  


## SCHEDA N.8

a. Gli atti tipici degli organi di indirizzo e degli organi gestionali nell'ente locale.

b. Durante lo svolgimento del servizio serale dedicato al contrasto del fenomeno della movida, l'Ufficiale di Coordinamento da disposizione di intervenire, unitamente ad un collega, in una precisa zona del lungomare al fine di sanzionare le numerose autovetture lasciate in sosta irregolare in prossimità dei noti locali della riviera. Mentre state redigendo i preavvisi di accertamento di violazione, si avvicinano alcuni ragazzi i quali, con tono alterato e provocatorio, iniziano a chiedere spiegazioni in merito alle sanzioni elevate. Contestualmente venite avvicinati da un automobilista il quale vi comunica che a qualche metro di distanza è in corso un'animata discussione tra due automobilisti in merito a chi debba occupare uno stallo di sosta. Il candidato illustri come si comporterebbe nel caso appena descritto.

c. La patologia dell'atto amministrativo.



The image shows three handwritten elements. At the top left is a stylized signature. To its right is the name 'Moses' written in a cursive hand. Below these, there is another signature that appears to be 'A.A.' with a long horizontal stroke extending to the right.

SCHEDA N.12

a. La gestione del Personale e dell'organizzazione interna negli Enti locali.

b. L'attività di somministrazione di alimenti e bevande.

c. Il dirigente nella pubblica amministrazione.



The image shows two handwritten marks in black ink. The upper mark consists of a circular scribble on the left and the cursive text 'm. G. Sel' to its right. Below this is a long, horizontal, stylized scribble that resembles a signature or a flourish.